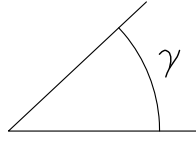
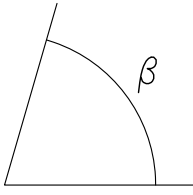
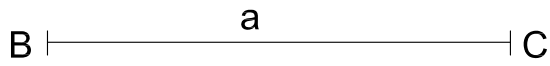




Ejercicio TR2: Triángulo conocidos un lado y los ángulos adyacentes



CONCEPTOS PREVIOS

Lugares geométricos

VAMOS A PENSAR LA SOLUCIÓN

